

ABC, 27 de Enero de 2020
CIENCIA - El ABCdario de las matemáticas
Alfonso Jesús Población Sáez

Desde la Antigüedad, el ser humano ha utilizado diferentes motivos para adornar el pavimento. Y ha ideado diferentes modos de hacerlo



Embaldosado - Pixabay

Después de echar un vistazo a los cielos [la semana pasada](#) , volvamos al suelo que pisamos, porque las **matemáticas** también pueden decirnos algunas cosas. Nuestra ajetreada vida cotidiana no nos permite disfrutar de todo lo que nos rodea, o al menos pararnos a pensar en algún momento cómo son las cosas con las que convivimos. Con este artículo voy a comenzar una serie sobre cómo organizamos y configuramos algo de lo que no podemos prescindir (al menos por ahora): **el suelo**.

Desde la antigüedad, el ser humano ha utilizado diferentes motivos para adornar el pavimento de calles y viviendas, para decorar paredes, techos y objetos como cajas, muebles, etc. Y ha ideado diferentes modos de hacerlo. Eso es de lo que vamos a hablar: **cómo recubrir el plano** , dicho en

términos matemáticos. Por si el lenguaje puede resultar un inconveniente (muchas veces es lo que pasa en matemáticas; decimos que no entendemos por la jerga utilizada, pero en muchas ocasiones simplemente las ramas no nos dejan ver el bosque, y las cosas son más simples de lo que parecen; otras no, por supuesto). Utilizamos la expresión “el plano” para designar una superficie con dos dimensiones, largo y ancho. Esa palabra trata de responder al concepto intuitivo de todo aquello que es así, plano, que no tiene altura, o es irrelevante para lo que estamos haciendo. Son planas las paredes, los techos (aunque estén inclinados; eso no nos incumbe para lo que queremos tratar que es el recubrimiento de los mismos), una hoja de papel, y por supuesto, el suelo.

Llamaremos **mosaico** o **teselado del plano** a un conjunto de piezas (baldosas o teselas) con las que trataremos de recubrir totalmente el plano, sin dejar ningún hueco, y sin montar o solapar unas piezas con otras. El que haya intentado embaldosar un cuarto de baño, una habitación irregular, etc., sabe por experiencia que la tarea no es trivial. No es trivial si se quiere hacer bien, claro. Si lo que queremos es acabar rápido, hacemos cachitos y vamos rellenando de cualquier manera. Pero ya sabéis que los matemáticos lo queremos perfecto, simétrico, que den ganas de mirarlo, no que nos espante la vista.

Polígonos regulares

Hoy vamos a empezar por lo más sencillo: utilizando exclusivamente polígonos regulares (ya saben, triángulos, cuadrados, pentágonos, hexágonos, etc.). Ya lo iremos sofisticando más adelante. Ya saben que en matemáticas las cosas no se hacen al tun-tun (ensayo-error; a veces para intentar entender una situación, sí se puede probar, pero en asuntos tan sencillos como éste, pues no es necesario), así que vamos a echar una pequeña cuenta. Nos vamos a fijar en un hipotético **vértice del embaldosado**, es decir, en un punto en el que se juntan varias losetas de las que vamos a utilizar. Si desde ese punto trazamos una circunferencia con el compás, nos percataremos inmediatamente de que el plano se recorre completamente con esa circunferencia, puesto que encierra todos puntos alrededor de ese vértice. Es decir, que el plano se completa con 360° , que es la amplitud total de una circunferencia. A continuación, necesitamos saber los grados de cada uno de los ángulos de los polígonos regulares. Al ser regulares (es decir, todos los lados tienen la misma longitud), los ángulos son también iguales para cada polígono.

En el colegio nos enseñaron en su momento que la suma de todos los ángulos de un polígono regular de n lados viene dada por la expresión: $180(n-2)$

Así, para el triángulo ($n = 3$), la suma de todos los ángulos es 180° ; para un cuadrado ($n = 4$), dicha suma es 360° ; para un pentágono ($n = 5$), es 540° , y así sucesivamente. Si queremos

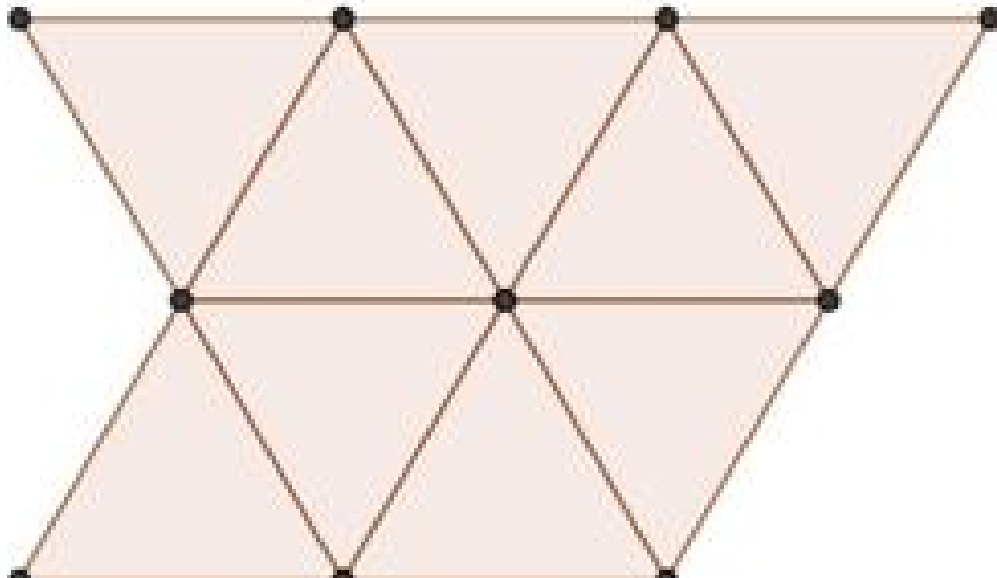
saber la amplitud de cada ángulo, basta con dividir la expresión anterior entre n (el número de lados):

$$\frac{180(n-2)}{n}$$

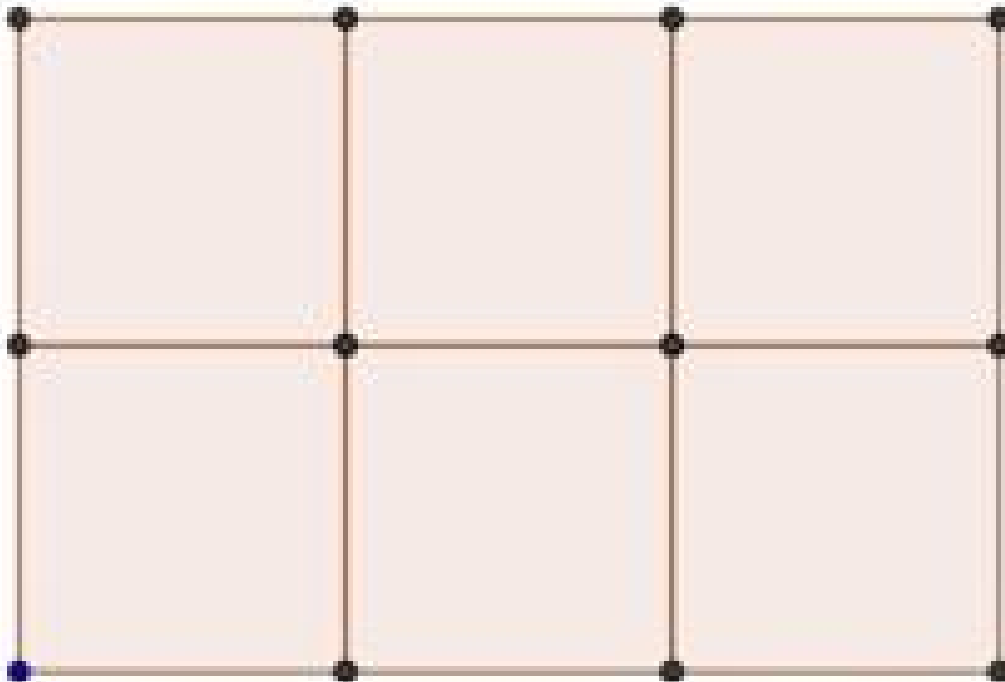
Dando valores, se obtiene que:

n	3	4	5	6	7	8	9	10	11	12	13	14	15	16	17
α	60	90	108	120	$\frac{900}{7}$	135	140	144	$\frac{1620}{11}$	150	$\frac{1980}{13}$	$\frac{1080}{7}$	156	$\frac{315}{2}$	$\frac{2700}{17}$

Como debemos repartir esos valores de los ángulos en 360° , sólo nos sirven aquellos que dividan a ese valor. Así, por ejemplo, para $n = 3$ (triángulos), podemos rellenar el suelo con seis losetas, porque 360 es divisible entre 60, y el cociente es 6. Así lo vemos en la siguiente imagen: en cada vértice (sólo aparecen todos en el central) se disponen seis triángulos.



El siguiente es un ejemplo de un embañosado de un triángulo equilátero. Si también rellenamos



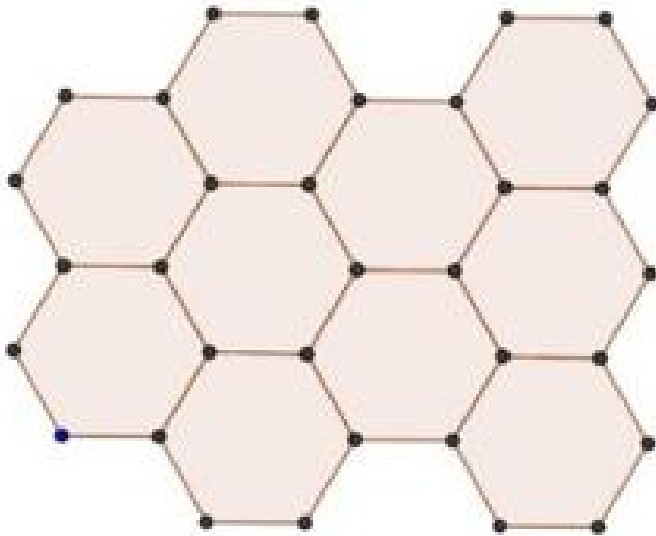
el triángulo equilátero con triángulos equiláteros, también rellenamos el cuadrado con cuadrados.



Una pared y un pavimento diferentes incluyen los dos tipos de mosaico hexagonal de tráfico




Las juntas de la tabla, solo me atrevo a quedarme a posición de 20 x 30 cm para el pavimento poligono



Lo que saben las abejas

La verdad es que en este punto le dan a uno ganas de contarles cómo las abejas (como otros animales) saben más matemáticas de lo que imaginamos. Si no, ¿cómo se explican que hayan llegado a la conclusión de que el modo de almacenar más miel, sin desaprovechar el más pequeño espacio, y utilizando la menor cantidad posible de cera (que lo suyo les cuesta fabricarla) para construir el borde, es con panales hexagonales? Podrían haberlos hecho cuadrados, o triangulares, o con otra configuración, pero no, han utilizado la óptima. En fin, seguro que esto ya lo sabían.



Muchos profesores de matemáticas de todo el mundo (también en España) han venido utilizando desde hace ya tiempo como recurso didáctico para enseñar la materia y favorecer además la transversalidad con otras asignaturas (arte, historia, etc.) las denominadas **rutas matemáticas**

por nuestros pueblos y ciudades. Mirar a nuestro alrededor con ojos matemáticos puede ayudar, suele ayudar, a comprender mejor las cosas, y a valorar la capacidad indudable de nuestros antepasados. Recientemente ha salido publicado un magnífico libro con ilustraciones y explicaciones a todo color (merece la pena; la primera edición se agotó en pocos días) titulado

«Periplo por la geometría de Valladolid»

(Inmaculada Fernández y Encarnación Reyes, Ayuntamiento de Valladolid) en el que a través de cinco capítulos, cada uno dedicado a un concepto matemático distinto, se van recorriendo calles y monumentos de la ciudad. Aunque pudiera pensarse que el interés es únicamente para los ciudadanos o visitantes de la ciudad, nada más lejos de la realidad, ya que incluye explicaciones y da pautas (muestra muchas de las cosas a localizar) para poder realizar trabajos similares por cualquier otro pueblo o ciudad. Continuará...

Resolviendo cuestiones pasadas

Hace dos semanas dejaba propuestas dos cuestiones para los lectores. Una de ellas muy bien resuelta por uno de ellos (por tanto, a su explicación nos remitimos), y la otra, quizá más complicada y técnica, de la que nadie hizo mención. Resolvamos esa, recordando qué decía:

1.- Se eligen tres puntos cualesquiera A, B, C, sobre una circunferencia de radio unidad. Sea R el lugar geométrico definido por el ortocentro del triángulo ABC (es decir, la región del plano que forman todos los posibles ortocentros de todos los posibles triángulos ABC). Determinar el área de esa región R.

Los ejercicios de lugares geométricos suelen atacarse mediante **geometría analítica**, es decir, meter coordenadas a los puntos y hala, a echar cuentas. Como pista, para que no lo intentaran de ese modo, les comenté que se puede resolver de un modo más rápido, gracias a la recta de Euler. En efecto, en vez de pensar en el ortocentro (llamémosle H) del triángulo, pongamos nuestra atención en los otros dos puntos que están sobre la

recta de Euler

, el baricentro (G) y el circuncentro (O). El circuncentro es, en la situación descrita, el centro del círculo, y el baricentro va a estar en cualquier lugar del círculo, pero en su interior. En el artículo se indicaba (sin demostrarlo) que siempre se cumple que $HG = 2 GO$, de modo que el ortocentro H va a tomar como máximo el valor 3 (vean el dibujo de la recta de Euler del anterior artículo). Por tanto, R va a ser el círculo de radio 3, y por consiguiente su área será

9π.

Alfonso J. Población Sáez es profesor de la Universidad de Valladolid y miembro de la Comisión de divulgación de la RSME.

El ABCDARIO DE LAS MATEMÁTICAS es una sección que surge de la colaboración con la Comisión de Divulgación de la [Real Sociedad Matemática Española \(RSME\)](#)