

ABC, 16 de Mayo de 2017  
CIENCIA - El ABCdario de las matemáticas  
Clara Grima

Planteamos uno de los problemas fundamentales de la teoría de juegos, pero llevado al máximo. Un centenar de reos tienen que decidir si confesar o no para obtener la mínima pena, pero lo que decidan afecta a los demás. ¿Qué harían ustedes en su lugar?



Cien prisioneros deben decidir si confesar o no, pero su decisión afecta a los demás - Fotolia

Si han oído hablar alguna vez de la **teoría de juegos** o de **John Nash** (aquel de la mente

maravillosa) posiblemente les suene aquello del dilema del prisionero. Sin duda se trata de uno de los problemas fundamentales en dicha teoría, la de juegos. El planteamiento es el siguiente: tenemos a dos sospechosos de un fraude pero nos faltan pruebas concluyentes para condenarlos. Los aislamos y les ofrecemos, por separado, que si confiesan y su compañero no, el que confiese se irá de rositas y su colega se quedará 10 años a la sombra. Si confiesan los dos, la justicia les concederá unas vacaciones pagadas entre rejas 6 años cada uno. Eso sí, en el caso de que ninguno confiese, ambos pasarán un año entre rejas por cargos menores. ¿Qué harían ustedes en su lugar? Uno puede pensar que lo mejor es confesar, salir en libertad y que el otro se coma los 10 años pero si hacemos esto y el otro también confiesa, nos quedamos ambos 6 años cada uno a la sombra. Por lo tanto, lo inteligente es no confesar porque la condena más pequeña se da en ese caso, cuando ninguno de los dos confiesa: un año para cada uno, dos años en total. Pero recordemos que los sospechosos están aislados y no saben qué va a decidir el otro, por lo que si decide no confesar y el otro confiesa está perdido. O al menos, preso durante 10 años. Entienden ya de dónde viene lo de dilema, ¿verdad?

Como decíamos al principio, este es un problema muy clásico de teoría de juegos y que mucha gente conoce. Hoy les quiero contar un problema menos conocido de prisioneros y dilemas que [Alberto Márquez](#) contó hace unos días en nuestro podcast [Los 3 Chanchitos](#) : **el problema de los 100 prisioneros**

. Sí, 100, a los matemáticos nos gusta poner a prueba la inteligencia de los reos en situaciones límites.

El problema de los 100 prisioneros fue planteado por **Anna Gál y Peter Bro Miltersen**, dos investigadores daneses en 2003 y se puede enunciar como sigue:

Tenemos a 100 prisioneros y cada uno de ellos tiene un número distinto (del 1 al 100) en su gorro, que ellos pueden ver perfectamente, basta con que se quiten el gorro. En un habitación de la prisión tenemos 100 casilleros, también numerados del 1 al 100, y dentro de cada cajón hemos puesto una tarjeta con un número del 1 al 100 que, lógicamente, no tiene por qué coincidir con el del cajón en cuestión. El alcaide de la prisión es un poco sádico y les propone jugar para decidir si se salven todos o mueren todos. Para ello, cada prisionero, por separado, entrará en la habitación del casillero, y puede abrir como máximo 50 cajones para encontrar aquella en la que está la tarjeta con el número de su gorro. Antes de salir, vuelve a cerrar todas los cajones. Si, siguiendo estas reglas, todos encuentran su número, se salvan todos. En otro caso, si un prisionero no encuentra su número en las 50 cajones que abre, morirán



Veamos un ejemplo con 8 prisioneros:

<b>Cajón</b>	<b>1</b>	<b>2</b>	<b>3</b>	<b>4</b>	<b>5</b>	<b>6</b>	<b>7</b>	<b>8</b>
<b>Tarjeta</b>	<b>3</b>	<b>4</b>	<b>6</b>	<b>7</b>	<b>8</b>	<b>1</b>	<b>2</b>	<b>5</b>

En este ejemplo se salvarían todos. El prisionero 1 abre el cajón 1, después la 3, después la 6 y ahí está su número. Con el resto de prisioneros ocurre lo mismo, encuentra su número antes de abrir 4 cajones

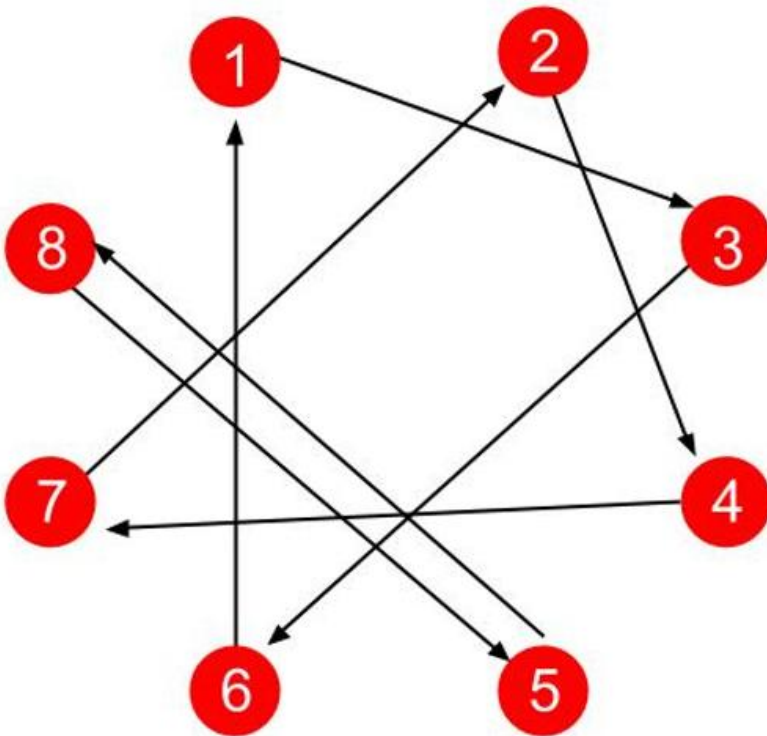
¿Qué pasaría en la siguiente situación?

<b>Cajón</b>	<b>1</b>	<b>2</b>	<b>3</b>	<b>4</b>	<b>5</b>	<b>6</b>	<b>7</b>	<b>8</b>
<b>Tarjeta</b>	<b>2</b>	<b>3</b>	<b>5</b>	<b>6</b>	<b>7</b>	<b>8</b>	<b>1</b>	<b>4</b>

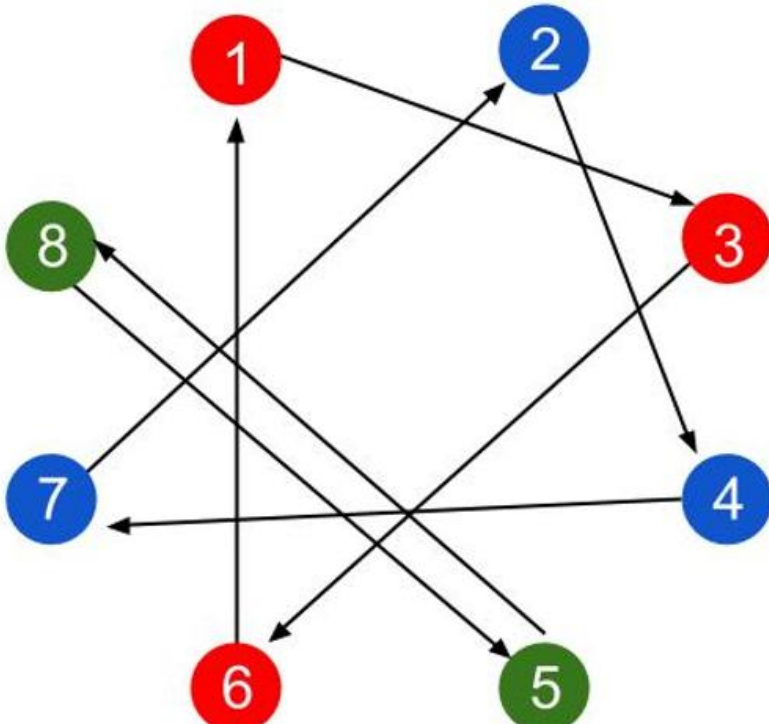
Este es un caso de los chungos porque solo los prisioneros 4, 6 y 8 encontrarían su número con la estrategia y, por lo tanto, morirían todos.

¿Qué diferencia hay entre los dos ejemplos? Vamos a representar ambas situaciones mediante un grafo, que es una herramienta que me encanta y que ayuda en la resolución de un montón de problemas. Un grafo no es más que un conjunto de puntos, vértices, en el que algunas parejas de estos vértices se unen entre sí mediante una línea, arista. Pueden pensar en Facebook como un grafo en el que los vértices son los usuarios y dos vértices estarán unido si son amigos en la citada red social. En realidad, necesitamos un grafo especial, un grafo dirigido porque las aristas serán flechas, con una dirección determinada. O sea, que nuestro grafo se parecerá más a Twitter o Instagram donde el hecho de que un usuario siga a otro no implica que este seguimiento sea mutuo. En nuestro grafo los vértices serán los 8 números y las aristas (flechas) indicarán el recorrido que hace un prisionero por los cajones.

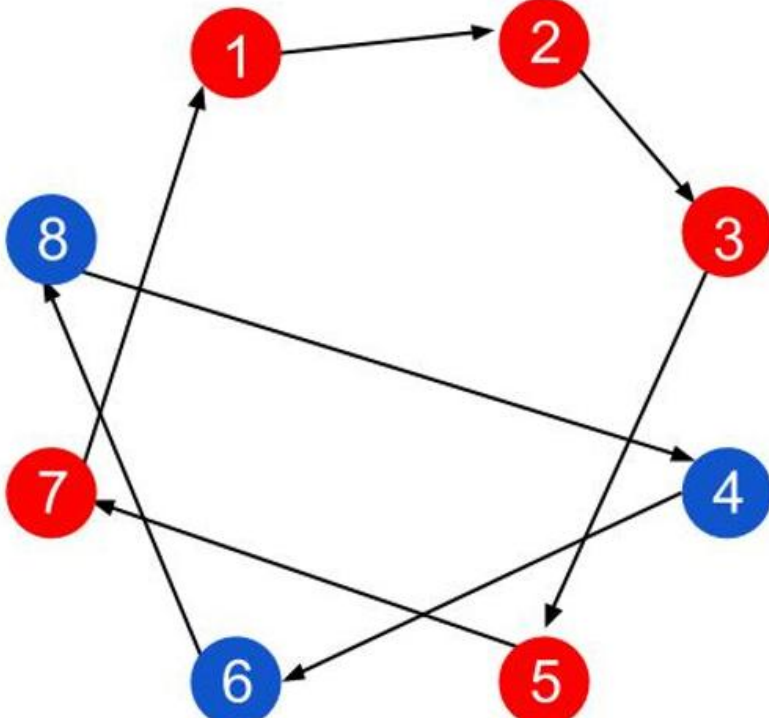
Así, el grafo del primer ejemplo sería el siguiente:



¿Qué observan? Efectivamente, que en esta distribución se forman lo que llamamos en Teoría de Grafos ciclos, caminos circulares de vértices, que son de longitud 3 como máximo, Los hemos coloreado con distintos colores en la siguiente imagen:



Real Sociedad Matemática Española (RSME) - Real Sociedad Matemática Española (RSME) - Real Sociedad Matemática Española (RSME)



Real Sociedad Matemática Española (RSME) - Real Sociedad Matemática Española (RSME) - Real Sociedad Matemática Española (RSME)